



**UNIVERSIDADES PÚBLICAS DE LA COMUNIDAD DE MADRID**  
EVALUACIÓN PARA EL ACCESO A LAS ENSEÑANZAS  
UNIVERSITARIAS OFICIALES DE GRADO

Curso **2019-2020**

**MATERIA: GEOGRAFÍA**

**INSTRUCCIONES GENERALES Y CALIFICACIÓN**

Después de leer atentamente el examen, responda a cuatro preguntas cualesquiera a elegir entre las ocho que se proponen.

**TIEMPO Y CALIFICACIÓN:** 90 minutos. Cada pregunta se calificará sobre 2,5 puntos.

**A.1. (2,5 puntos). Tema: “El sistema urbano español”.**

Desarrolle, de manera sintética, el tema propuesto atendiendo a los siguientes apartados (utilice, como máximo, una cara de un folio):

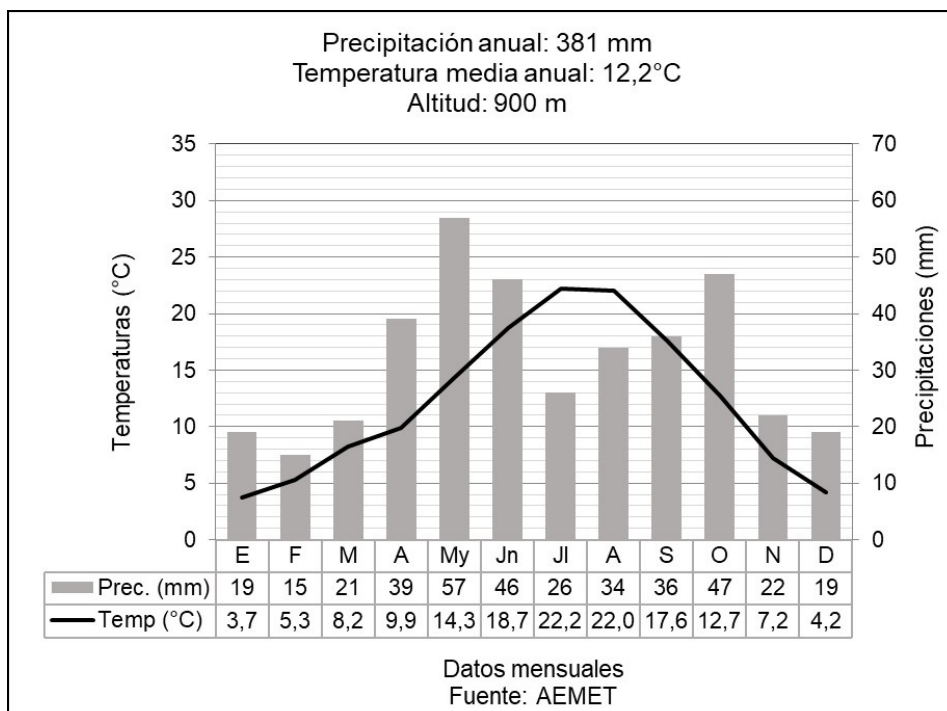
1. La jerarquía urbana de las ciudades en España.
2. La red urbana española.

**A.2. (2,5 puntos).** Defina con precisión **cinco** de los ocho **conceptos** siguientes (escriba, como máximo, una cara de un folio):

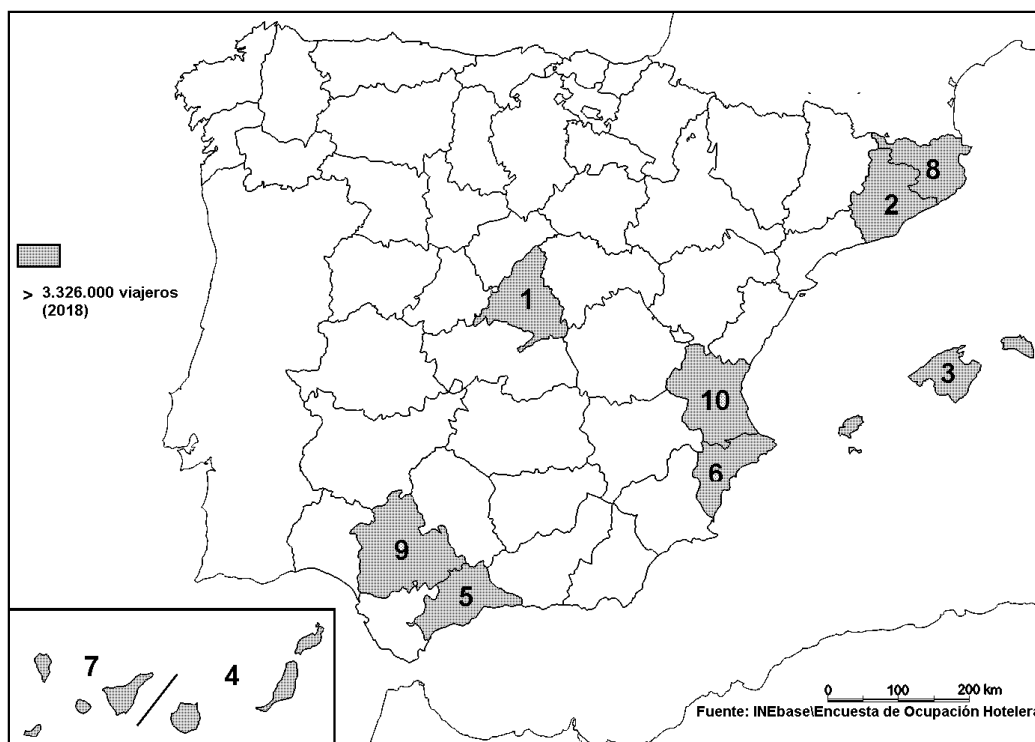
**Altitud; SIG; caudal; marisma; relieve apalachense; trópico; pesca de altura; ría.**

**A.3. (2,5 puntos).** Realice un comentario del siguiente climograma atendiendo, al menos, a estos aspectos:

1. Régimen de temperaturas medias mensuales y de las precipitaciones.
2. Pertenencia a alguna de las variedades climáticas de España y su área de distribución.



**A.4.** (2,5 puntos). A la vista del mapa adjunto “**Provincias con mayor número de viajeros en 2018**”, indique el nombre de las provincias numeradas, señale las posibles causas de esta distribución, y su relación con la actividad turística.



**B.1.** (2,5 puntos). Tema: “**La actividad pesquera en España**”.

Desarrolle, de manera sintética, el tema propuesto atendiendo a los siguientes apartados (utilice, como máximo, una cara de un folio):

1. Características y problemática de la pesca en España.
2. Principales caladeros y tipos de pesca.

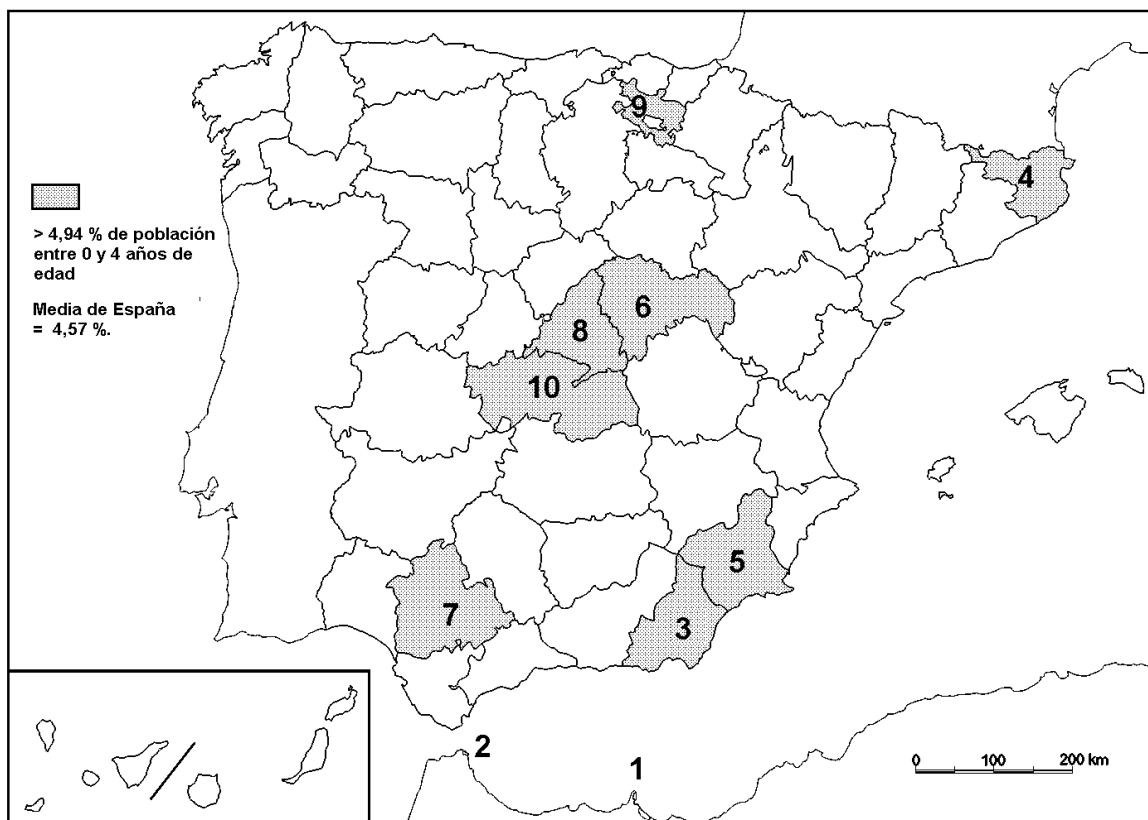
**B.2.** (2,5 puntos). Defina con precisión **cinco** de los ocho **conceptos** siguientes (escriba, como máximo, una cara de un folio):

**Geografía; falla; solsticio; proyección cartográfica; deforestación; meandro; régimen fluvial; bosque caducifolio.**

**B.3.** (2,5 puntos). Comente la **fotografía adjunta** atendiendo si procediese, al siguiente orden:

1. Elementos del medio físico.
2. Elementos del medio humano.
3. La relación entre ellos.
4. Indique el tipo de paisaje geográfico que muestra la fotografía.

**B.4.** (2,5 puntos). A la vista del mapa adjunto “**Porcentaje de población de 0 a 4 años (2017)**”, indique el nombre de las provincias o ciudades autónomas numeradas, según proceda, y explique las posibles razones y el significado demográfico que pueda tener esta distribución.



Fuente INEbase.



**Zarauz/Zarautz (Guipúzcoa/Gipuzkoa)**

## GEOGRAFÍA

### CRITERIOS ESPECÍFICOS DE CORRECCIÓN.

#### A) CRITERIO GENERAL:

La puntuación total será de **10 puntos**.

#### B) CRITERIOS CONCRETOS:

##### **Preguntas A.1 y B.1: 2,5 puntos.**

Trata del “*desarrollo de un tema*”, valorando fundamentalmente la ordenación, la coherencia expositivo-argumentativa, la claridad, la precisión y la organización sintética de los conocimientos, junto con la correcta localización, la comprensión y caracterización de los fenómenos geográficos que se suman al grado y profundidad de los conocimientos. El tema podrá ser planteado a partir de imágenes, gráficos, mapas u otros recursos visuales. **La puntuación asignada a esta pregunta se distribuirá equitativamente entre los subepígrafes del enunciado.** Los coordinadores comunicarán a los correctores las orientaciones específicas de corrección.

##### **Preguntas A.2 y B.2: 2,5 puntos.**

*Definición* de una serie de *términos geográficos y conceptos*. Las respuestas deberán valorarse con un criterio amplio, ya que son numerosas las posibilidades expresivas correctas. En todo caso, se atenderá a la precisión geográfica en la caracterización del término o concepto, y a la claridad conceptual. Se podrá complementar la definición con un dibujo explicativo. Se asignará 0,50 puntos por cada uno de los cinco términos preguntados, de los ocho que se proponen.

##### **Preguntas A.3 y B.3: 2,5 puntos.**

Según la opción elegida por el estudiante, deberá: A) Comentar una noticia o un gráfico vinculados a uno de los temas de la geografía de España, donde se valorará preferentemente, la capacidad de relación entre la actualidad y los contenidos estudiados; B) Interpretar una imagen de paisaje geográfico. Se valorará con criterio amplio las respuestas a los epígrafes enunciados en la pregunta.

##### **Preguntas A.4 y B.4: 2,5 puntos.**

**Esta parte consta de una pregunta de localización** con base en un mapa. Se valorará la localización del hecho cartografiado, y su correcta interpretación causal. Cada localización correcta de las diez posibles tendrá un valor de 0,10 puntos.

**En las cuatro partes de que consta la prueba, se considerarán elementos de ponderación; v.gr.: la calidad de la redacción, la corrección expositivo-argumentativa, la gramatical y la ortográfica.**