

Anexo 2

Pruebas para la obtención de títulos de Técnico y Técnico Superior MODELO PARA LA ELABORACIÓN DE LAS PRUEBAS

Convocatoria correspondiente al curso académico 2021-2022

(Resolución de 3 de diciembre de 2021 de la Dirección General de Educación Secundaria, Formación Profesional y Régimen Especial)

DATOS DEL ASPIRANTE			FIRMA
APELLIDOS:			
Nombre:	D.N.I. N.I.E. o Pasaporte:	Fecha:	

Código del ciclo: (1) TCPM01	Denominación completa del título: (1) Técnico en Confección y Moda
Clave o código del módulo: (1) 01	Denominación completa del módulo profesional: (1) Confección industrial

INSTRUCCIONES GENERALES PARA LA REALIZACIÓN DE LA PRUEBA
<ol style="list-style-type: none"> 1. Durante la realización de la prueba será necesario tener presente el D.N.I en la mesa y no se podrán utilizar dispositivos electrónicos. 2. Para realizar la prueba debe utilizar bolígrafo azul o negro, las respuestas escritas con lápiz o portaminas no se calificarán. 3 La prueba se desarrollará en un tiempo máximo de 4 horas. 4. El examen consta de una parte teórica práctica con un test de 15 preguntas el tiempo para la realización del test será de 15 minutos. Cada pregunta del tipo test tiene una única respuesta correcta. La respuesta que usted considere correcta deberá marcarla con un círculo, en caso de confundirse tachará la respuesta con una X y volverá a marcar la pregunta de nuevo con un círculo. Se realizará esta parte primero. 5. El examen consta de una parte práctica, se entregará al alumnado el pantalón de hombre T40, cortado para la confección. Así como todo el material necesario para la realización de la prueba. 6. Se le entregará la ficha técnica y lista de operaciones de la confección del pantalón. (Anexo I,II,III). Excepto algunas operaciones que se deberán completar por el aspirante. 7.El aspirante dispondrá de una máquina plana, el taller dispone de accesorios para la máquina (prensatela de cremallera), máquinas de sobrehilar (Overlock) y planchas. Es necesario preparar maquinaria y equipos para el proceso de confección, el aspirante debe organizarse en el puesto de trabajo teniendo en cuenta las herramientas disponibles en el taller y realizar los ajustes necesarios en la maquinaria para el correcto funcionamiento siendo necesario el conocimiento de los equipos.

CRITERIOS DE CALIFICACIÓN Y VALORACIÓN
<ul style="list-style-type: none"> • Confección del pantalón talla 40 (4puntos). • Lista de fases de la confección del bolsillo de dos vivos con cartera (2puntos). • Lista de fases de la confección del bajo con vuelta doble (1 puntos). • El examen se considerará aprobado habiendo obtenido una calificación igual o superior a 5. • Test teórico práctico de 15 preguntas. (3 puntos).

(1) Consignense las denominaciones exactas y los códigos reflejados en el Anexo 3.a o 3.b de las presentes instrucciones.



CALIFICACIÓN

DATOS DEL ASPIRANTE		
APELLIDOS:		
Nombre:	D.N.I. N.I.E. o Pasaporte:	Fecha:

FIRMA

Ejercicio 1: Confección del pantalón talla 40 (4puntos). Se aporta ficha técnica y lista de operaciones (Anexo I,II,II).

Ejercicio 2: Lista de fases del bolsillo de dos vivos con cartera (2puntos). Modelo de ficha en pág. 3.

Ejercicio 3: Lista de fases de la confección del bajo con vuelta doble (1 puntos).
Modelo de ficha en pág. 3.



I.E.S. SANTA ENGRACIA
Madrid

LISTA DE FASES		Mauro
Código:	MODELO:	

MONTAJE:

[illegible]



I.E.S. SANTA ENGRACIA
Madrid

LISTA DE FASES

Código:

MODELO:

MONTAJE:

[illegible]

Ejercicio 4: Cada respuesta correcta del tipo test suma 0,20 puntos, cada respuesta incorrecta resta 0,10 puntos, la mitad de una respuesta correcta, las preguntas no contestadas ni suman ni restan. (3 puntos).

1. **Entre los elementos sustentadores de la máquina de coser está**
 - a) La polea.
 - b) La banacada.
 - c) El tira-hilos.
 - d) El cajón de accesorios.
2. **¿Cuál es el tipo de puntada que realizan las máquinas del grupo 600?**
 - a) De recubrimiento.
 - b) Imitación a mano.
 - c) De cadeneta doble.
 - d) De cadeneta simple.
3. **La barra de agujas es un elemento...**
 - a) Sustentador .
 - b) Realizador.
 - c) Transmisor.
 - d) Operador.
4. **El movimiento transmitido por el motor de la máquina de coser a la barra de agujas por el árbol superior es un movimiento...**
 - a) Rectilíneo alternativo.
 - b) Rectilíneo continuo.
 - c) Circular alternativo.
 - d) Circular continuo.
5. **¿Para qué se utiliza principalmente la máquina de columna?**
 - a) Para camisería.
 - b) Para calzado y marroquinería.
 - c) Para costuras elásticas.



**Comunidad
de Madrid**



I.E.S. SANTA ENGRACIA
Madrid

d) Para tejados y piel.

6. Para realizar costuras elásticas y sobrehilados de cantos se utilizan máquinas...

- a) Planas.
- b) De columna.
- c) De brazo.
- d) De zócalo.

7. La parte con más grosor de la aguja se llama...

- a) Punta.
- b) Tronco.
- c) Ranuras.
- d) Talón.

8. Responda si la siguiente afirmación es verdadera o falsa: los dispositivos de máquinas para la seguridad activa hay que respetarlos según el caso.

- a) Verdadero
- b) Falso

9. Las puntadas de clase 200 son...

- a) Puntadas a mano
- b) Puntadas de cadeneta doble
- c) Puntadas de recubrimiento.

10. ¿Cuál de los siguientes términos no es un dispositivo de máquina para la seguridad activa?

- a) Barreras.
- b) Las mascarillas.
- c) Iluminación.
- d) Señalización.

11. Escoja la afirmación falsa:

- a) La máquina de coger bajos se usa para coser.
- b) La máquina overlock se usa para recubrir.
- c) La máquina de coger bajos puede utilizarse en cuero.

d) La máquina overlock se usa para coser y recubrir.

12. ¿Cuál de los siguientes accesorios se utiliza para máquinas planas?

- a) El pie fruncido, guía embudo y las anclas.
- b) El pie fruncidor, guía embudo y guía de orillas regulable.
- c) La boquilla termoadhesiva
- d) La cuchilla, guía embudo y guía de orillas regulable.

13. Indique la respuesta incorrecta:


- a) El cuero debe coserse con una máquina especialmente preparada para ello.
- b) El pelo puede coserse con una máquina doméstica.
- c) El cuero se cose a mano.
- d) Ninguna de las anteriores es correcta.

**14. Responda si la siguiente afirmación es verdadera o falsa: la máquina soldadora
no sirve para unir cualquier tejido.**

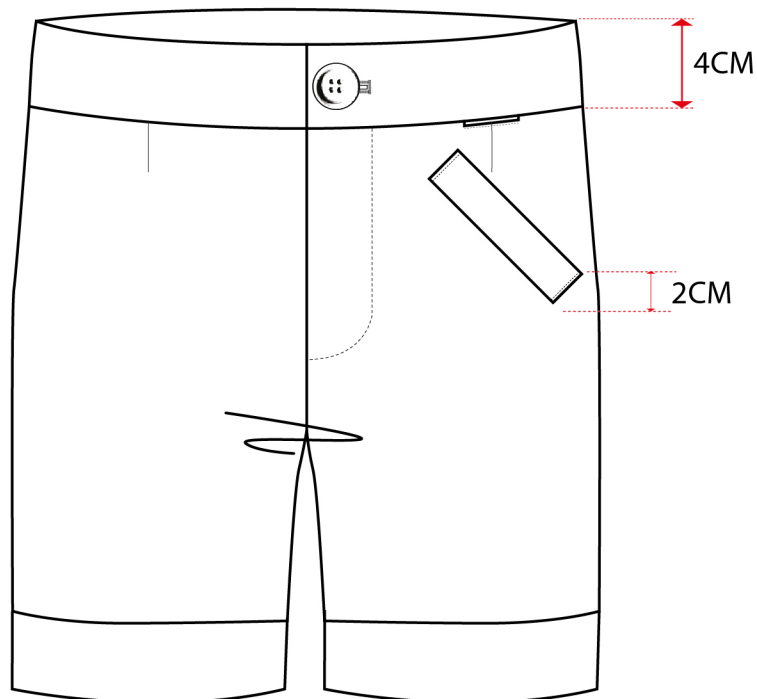
- a) Verdadero
- b) Falso

**15. Responda si la siguiente afirmación es verdadera o falsa: la máquina cerradora
realiza una costura con el borde oculto y doble pespunte.**

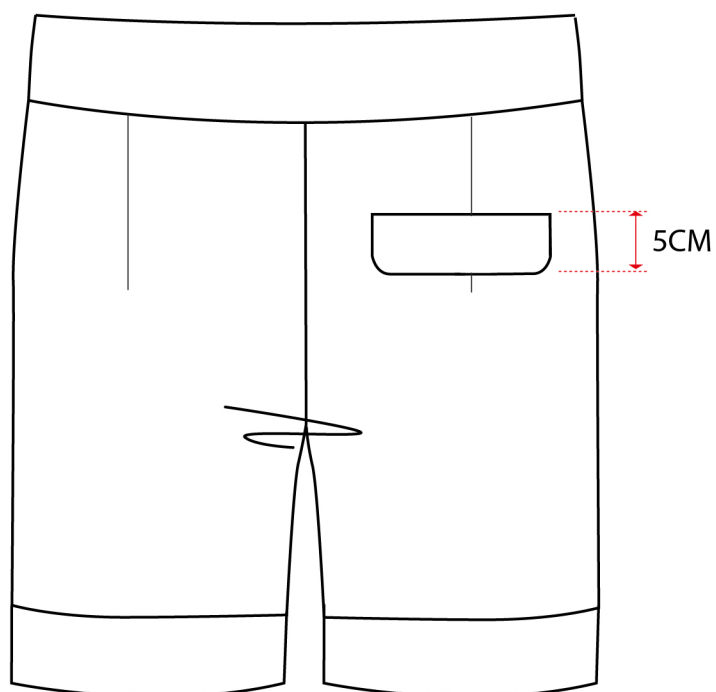
- a) Verdadero
- b) Falso

 I.E.S. SANTA ENGRACIA Madrid	ANEXO I		FICHA TÉCNICA		TEMPORADA: 2021/2022
	CÓDIGO: 0269		MODELO: CONFECCIÓN INDSTRIAL		
FORNITURAS: Cremallera			TEJIDO : DENIM		
			FORRO		

Delantero








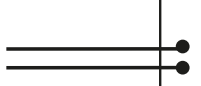
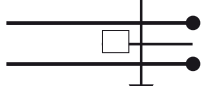
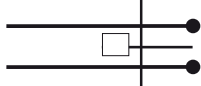




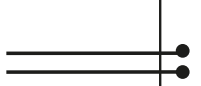


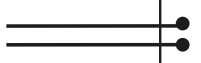
Trasero




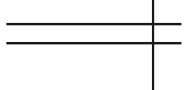










DESCRIPCIÓN: Pantalón corto de hombre, con bolsillo relojero y cartera fija inclinada en el delantero y bolsillo de dos vivos con cartera en espalda. Bajo con vuelta doble.


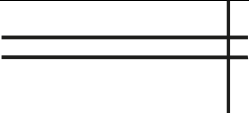




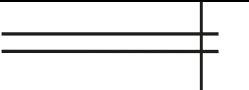

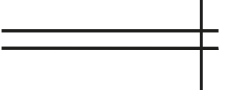
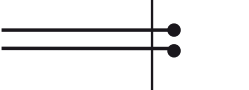

NOMBRE:

FECHA:

Nº	DESCRIPCIÓN	ESQUEMA DE COSTURA	MÁQUINA	DENSIDAD PUNTADAS	OBSERVACIONES
1	Sobrehilar piezas		OW		Todas las piezas necesarias.
2	Coser pinzas delantero (2)		PLANA	4pdas/cm	
3	Coser pinzas trasero (2)		PLANA	4pdas/cm	
4	Planchar pinzas				
5	Coser bolsillo cartera fija inclinada, delantero.				ANEXO I (BOL).
6	Cerrar tiro delantero		PLANA		A 1cm
7	Coser pieza bragueta izquierda a cremallera y lado izquierdo pantalón		PLANA	4pdas/cm	Con prensatelas de cremallera
8	Coser cremallera a bragueta lado derecho del pantalón		PLANA	4pdas/cm	Con prensatelas de cremallera
9	Pespuntear bragueta, hacer pespunte de adorno		PLANA	3pdas/cm	
10	Hacer bolsillo dos vivos con cartera en trasero				Lista de fases que tiene que hacer
11	Unir traseros		PLANA	4pdas/cm	
12	Planchar cargando costuras hacia un lado				
13	Cerrar entrepierna		PLANA	4pdas/cm	
14	Planchar cargando costuras hacia un lado				
15	Cerrar costado			4pdas/cm	

16	Planchar abriendo las costuras				
17	Hacer bolsillo relojero. Encarar tejido bolsillo con delantero.		Mano		
18	Coser de piquete a piquete a 1cm		PLANA		
19	Hacer cortes hacia dentro altura final de pespunte				
20	Girar hacia el revés		Mano		
21	Planchar				
22	Doblar tejido bolsillo hacia cinturilla		Mano		
23	Cerrar fondo de bolsillo		PLANA	4pdas/cm	
24	Unir cinturilla al pantalón y cerrar martillo		PLANA	4pdas/cm	Hasta piquete del martillo
25	Preformar cinturilla				
26	Unir cinturilla al pantalón		PLANA	4pdsd/cm	Derecho con derecho a 1cm
27	Dar la vuelta a la cinturilla y coser bajo de la cinturilla al pantalón		PLANA	4pdsd/cm	Por el derecho y doblándola hacia dentro
28	Hacer ojal a mano		Mano		
29	Marcar botón a mano		Mano		
30	Coser botón		Mano		
31			Visual		
32	Hacer bajo con vuelta doble				Lista de fases que tiene que hacer
33	Repasar costuras				

Listado de fases: Anexo III
Bolsillo cartera fija inclinada

Nº	DESCRIPCIÓN	ESQUEMA DE COSTURA	MÁQUINA	DENSIDAD PUNTADAS	OBSERVACIONES
1	Doblar pieza de cartera fija por piquetes encarando el tejido				. Coser derecho con derecho
2	Cerrar pieza cartera por laterales		Plana	4pdas/cm	A 1 cm
3	Dar piquetes a esquinas para sacar picos y dar la vuelta a la cartera		Mano		
4	Encarar fondo bolsillo inferior en delantero		Mano		Por el derecho y siguiendo patrón afinado
5	Encarar encima de fondo bolsillo inferior la cartera		Mano		Por el derecho y siguiendo afinado del patrón
6	Posicionar encarando con cartera y bolsillo inferior la pieza del bolsillo fondo superior		Mano		Por el derecho y siguiendo afinado del patrón
7	Coser por del derecho el fondo de bolsillo inferior y la cartera		Plana	4pdas/cm	Siguiendo la boca del bolsillo, de piquete a piquete y a 1cm de la boca del bolsillo
8	Coser el fondo de bolsillo superior		Plana	4pdas/cm	Siguiendo la boca del bolsillo, de piquete a piquete y a 1cm de la boca del bolsillo
9	Abrir abertura de boca del bolsillo				Hacer cortes hacia dentro altura final del pespunte
10	Girar hacia el revés		Mano		
11	Cerrar fondos de bolsillo		Plana		
12	Sobrehilar bolsillo alrededor		OW		
13	Dar pespunte a la cartera por el derecho		Plana	4pdas/cm	Pespunte a 0,25 cm del canto.